

प्रादर्श प्रश्न पत्र –I

कक्षा – दसवी विषय – सामाजिक विज्ञान

समय – 03 घण्टे

विषय कोड – 300

पूर्णांक – 75

प्रश्न 1. खण्ड (अ) सही विकल्प चुनकर लिखिए :-

(i) कथन : वन नवीकरणीय संसाधन है।

कारण : जितना वन काटा जाय उतना स्वतः उग जाता है।

(अ) केवल कथन सही है।

(ब) केवल कारण सही है

(स) कथन और कारण दोनों सही है

(द) कथन और कारण दोनों गलत है

(ii) देश के विकास का सूचक है –

(अ) जीवन प्रत्याशा

(ब) सार्वजनिक हित

(स) राष्ट्रीय आय

(द) उपभोग व्यय

(iii) रूस की संसद का नाम है –

(अ) लोकसभा

(ब) सीनेट

(स) डूमा

(द) जार

(iv) द्वितीय विश्व युद्ध हुआ था –

(अ) फासीवाद के अंत के कारण

(ब) जर्मनी की महत्वाकांक्षा के कारण

(स) दलीय व्यवस्था के कारण

(द) परमाणु बम के कारण

(v) उपनिवेशों की समाप्ति के लिए आवश्यक है –

(अ) राष्ट्रवादी भावना

(ब) दुर्बलता

(स) सबलता

(द) निरंकुशता

खण्ड (ब) रिक्त स्थानों की पूर्ति कीजिए :-

I. नियम गिरी में अयस्क का भण्डार है।

II. मुद्रा का निर्गमन बैंक द्वारा होता है।

III. हमारे भोजन का अधिकांश भाग भूमि से प्राप्त होता है?

IV. यहूदियों के लिए 1948 में देश की स्थापना हुई।

V. इंडोनेशिया के राष्ट्रवादी और प्रथम राष्ट्रपति थे।

प्रश्न 1. खण्ड (स) सही जोड़ी बनाइये :-

- | | |
|------------------------|-----------------|
| 1. बिक्री कर | – निजी आय पर कर |
| 2. भविष्य की ऊर्जा | – दुष्प्रचार |
| 3. मीडिया से हानि | – लोकतंत्र |
| 4. आयकर | – सौर ऊर्जा |
| 5. सार्वभौमिक मताधिकार | – उत्पादन पर कर |

(अतिलघुउत्तरीय प्रश्न 2 से 6 तक प्रश्न है, प्रत्येक प्रश्न पर दो अंक आबंटित है।)

प्रश्न 02 – जीवन प्रत्याशा से क्या तात्पर्य है?

प्रश्न 03 – मुद्रा के लिए मापन का आधार होना क्यों जरूरी है?

प्रश्न 04 – संयुक्त राज्य अमेरिका प्रथम विश्व युद्ध में क्यों शामिल हुआ?

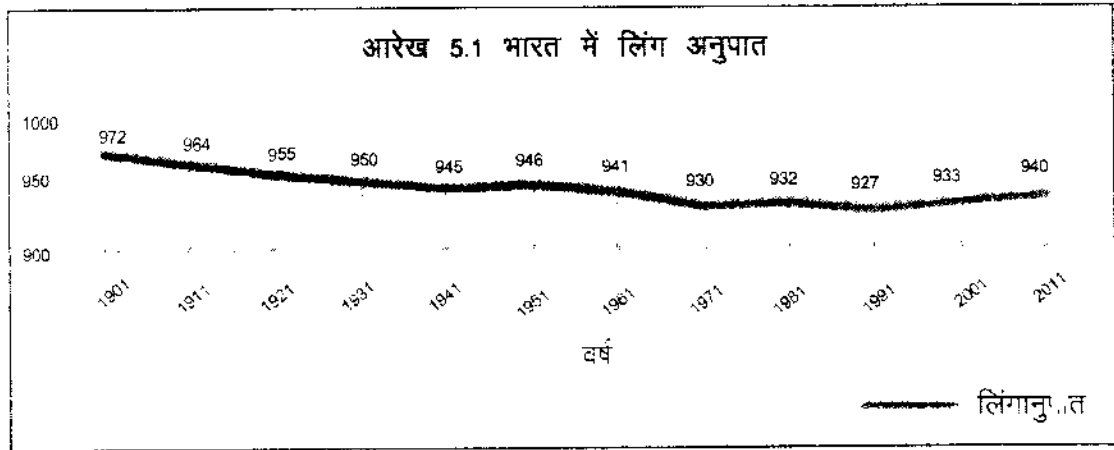
प्रश्न 05 – गरीबी दूर करने के लिए सरकार क्या कर सकती है, दो सुझाव दीजिये?

प्रश्न 06 – नाइजीरिया देश का जन्म कैसे हुआ?

(प्रश्न क्रमांक 7 से 10 तक लघुउत्तरीय प्रश्न है प्रत्येक प्रश्न पर 03 अंक आबंटित है।)

प्रश्न 07 –

लिंगानुपात के आरेख को देखकर निम्नलिखित प्रश्नों के उत्तर दें :



(i) 1901 में लिंगानुपात कितना था?

(ii) सबसे कम लिंगानुपात किस वर्ष था।

(iii) 1901 की तुलना में 2011 में क्या परिवर्तन आया?

प्रश्न 08 – आपके गांव में सार्वजनिक वितरण प्रणाली की क्या व्यवस्था है?

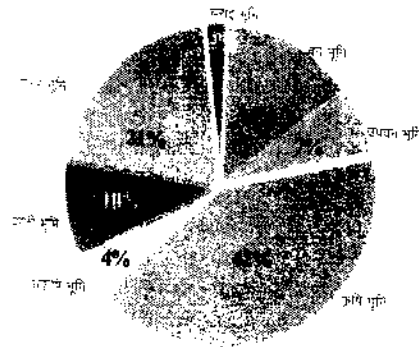
प्रश्न 09 – रेखीय प्रतिरूप का नामांकित चित्र बनाइये?

प्रश्न 10 – सामाजिक आंदोलनों के प्रभाव की समीक्षा कीजिए?


(निर्देश – प्रश्न क्रमांक 11 से 14 तक लघुउत्तरीय प्रश्न है। प्रत्येक प्रश्न में 04 अंक आबटित है।)

प्रश्न 11 – दिये गये आरेख के आधार पर निम्नांकित प्रश्नों के उत्तर दीजिए –

भूमि उपयोग



भूमि उपयोग भारत 1950-51



भूमि उपयोग भारत 2010-11

आरेख : 2.1 भारत में भूमि उपयोग

1. अकृषि भूमि 2010-11 में बढ़कर कितने प्रतिशत हो गई?
2. वन भूमि का विस्तार 1950-51 की तुलना में 2010-11 में कितना प्रतिशत बढ़ा?
3. 2010-11 में किस भूमि का उपयोग अधिक है?
4. बंजर भूमि 2010-11 में घटकर कितना प्रतिशत रह गई?

अथवा

दिये गये संसाधनों के उदाहरण चुनियें –

संसाधन	उदाहरण
1. जैविक	
2. अजैविक	
3. नवीकरणीय	
4. अनवीकरणीय	

(कोयला, सौर ऊर्जा, लौह अयस्क, मैंगनीज, मछली, जल विद्युत, भूमि, वायु)

प्रश्न 12 – राष्ट्र संघ की स्थापना क्यों की गई? कोई तीन कारण लिखिए।

1+3 अंक

अथवा

प्रथम विश्व युद्ध का तात्कालिक कारण क्या था? इस युद्ध का जनसामान्य पर क्या प्रभाव पड़ा? (कोई तीन प्रभाव)

प्रश्न 13 – किस तरह के उद्योग कच्चा माल के स्रोतों के पास लगाए जाते हैं? और किस तरह के उद्योग बाजार के पास लगाये जाते हैं? तर्क दीजिए।

2+2 अंक

अथवा

उद्योग स्थापित करने में बैंक की अहम् भूमिका है? स्पष्ट कीजिए।

प्रश्न 14 – भाषा आधारित प्रदेश गठन होने से क्या-क्या सकारात्मक प्रभाव देखने को मिलता है।
कोई चार तर्कसंगत उत्तर दीजिए। 04 अंक

अथवा

स्वतंत्रता के बाद पहला आम चुनाव कराने के लिए सरकार को बहुत परिश्रम करना पड़ा कारण सहित समीक्षा कीजिए। (कोई चार)

(प्रश्न क्रमांक 15 से 16 तक प्रत्येक प्रश्न पर 05 अंक आबंटित है।)

प्रश्न 15 – (अ) आधुनिक खेती के क्या-क्या दुष्परिणाम दिखाई दे रहे हैं? कोई दो कारण लिखिए। 02 अंक

(ब) रूस की क्रांतिकारी सरकार के प्रमुख कदम क्या-क्या थे? तीन कारण लिखिए।
03 अंक

अथवा

(अ) फसल चक्र या शस्यावर्तन किसे कहते हैं?

(ब) गुलामों और अर्धदासों की स्थिति का वर्णन कीजिए।

प्रश्न 16 – (अ) इग्लू से क्या तात्पर्य है। 1+4 अंक
(ब) वैश्वीकरण की दिशा में भारत सरकार ने 1991 में क्या प्रमुख बदलाव किये?
(कोई चार)

अथवा

(अ) पचास से दस लाख की जनसंख्या वाले बसाहट को क्या कहते हैं?

(ब) भारत में वैश्वीकरण के क्या दुष्परिणाम हुए? (कोई चार)

(प्रश्न क्रमांक 17 व 18 में 06 अंक आबंटित है।)

प्रश्न 17 – (अ) संसद के पास ही सम्प्रभूता क्यों है? 3+3 अंक
(ब) भारतीय संसद के प्रमुख कार्यों का वर्णन कीजिए? (कोई तीन)

अथवा

(अ) राष्ट्रपति के विधायी/कार्यपालिका शक्तियों को संक्षेप में स्पष्ट कीजिए?

(ब) संविधान निर्माण में लोगों की भागीदारी को बढ़ाने के लिए क्या कदम उठाए गये थे? (कोई तीन)

प्रश्न 18 – (अ) मतदाता किन-किन कारणों से मतदान करने नहीं जाते हैं? कोई दो कारणों को लिखिए। 2+4 अंक

(ब) आधुनिक मॉस मीडिया में विज्ञापनों की क्या भूमिका है? स्पष्ट कीजिए।

अथवा

- (अ) जातिवाद मतदान को प्रभावित करता है? इसके संबंध में अपने विचार व्यक्त कीजिए। (कोई चार बिन्दु पर)
- (ब) मोबाईल फोन का लोकतांत्रिक आंदोलनों में क्या भूमिका है? स्पष्ट कीजिए।

प्रादर्श प्रश्न पत्र –II

कक्षा – दसवीं विषय सामाजिक विज्ञान

समय – 03 घण्टे

विषय कोड – 300

पूर्णांक – 75

प्रश्न 1. (अ) सही विकल्प चुनकर लिखिए :-

1×5 = 5

(i) अनवीकरणीय संसाधन हैं :-

(अ) कोयला (ब) सौर ऊर्जा (स) पवन ऊर्जा (द) जल

(ii) भारत एक देश है :-

(अ) पिछड़ा (ब) विकसित (स) विकासशील (द) अविकसित

(iii) रूसी क्रांति की शुरुआत हुई :-

(अ) वर्ष 1915 में (ब) वर्ष 1916 में (स) वर्ष 1917 (द) वर्ष 1918 में

(iv) ईटली के फासीवादी तानाशाह का नाम था :-

(अ) हिटलर (ब) मुसोलिनी (स) स्टालिन (द) रुजवेल्ट

(v) रोनाल्ड रीगन राष्ट्रपति थे :-

(अ) अमेरिका के (ब) रूस के (स) इण्डोनेशिया के (द) वियतनाम के

(ब) रिक्त स्थान की पूर्ति कीजिए :-

1×5 = 5

(i) लेबर पार्टी देश से संबंधित है।

(ii) दो हजार रूपये की पत्र मुद्रा पर के हस्ताक्षर होते हैं।

(iii) भारत का कुल भौगोलिक क्षेत्रफल वर्ग किमी है।

(iv) जर्मनी, इटली और मिलकर धुरी देश कहलाए।

(v) यहूदियों के लिए सन् 1948 में देश की स्थापना हुई।

(स) सही जोड़ी बनाइए :-

1×5 = 5

(अ)

(ब)

(1) प्राकृतिक संसाधन

– सन् 2013 में प्रारंभ

(2) GST

– सार्वजनिक वितरण प्रणाली

(3) नोटा बटन

– वायु, जल, वन

(4) PDS

– चुनाव आयोग

(5) दलों का पंजीकरण

– वस्तु एवं सेवा कर

निर्देश – प्रश्न क्रमांक 2 से 6 तक के प्रश्न अतिलघुउत्तरीय है, प्रत्येक पर दो अंक आवंटित है।

प्रश्न 2. विकास को मापने के प्रमुख संकेतक कौन –कौन से हैं? (कोई दो)

प्रश्न 3. वस्तु विनिमय प्रणाली से होने वाली दो समस्याओं को लिखिए।

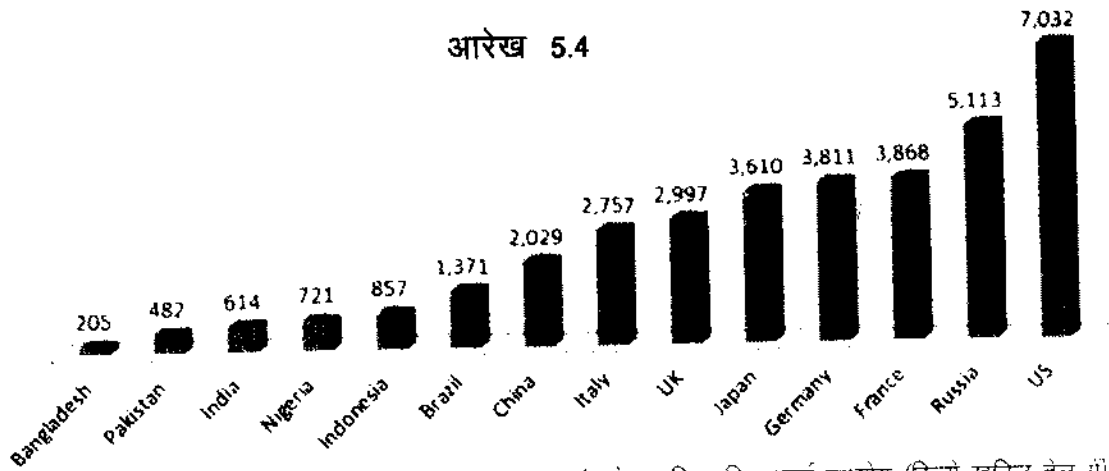
प्रश्न 4. संयुक्त राष्ट्र सुरक्षा परिषद् के स्थाई सदस्य वाले कोई चार देशों के नाम लिखिए।

प्रश्न 5. प्रत्यक्ष कर, अप्रत्यक्ष कर से भिन्न है इस भिन्नता के कोई दो कारण लिखिए।

प्रश्न 6. इंडोनेशिया की स्वतंत्रता में जापान की क्या भूमिका थी ?

निर्देश – प्रश्न क्रमांक 7 से 10 तक लघुउत्तरीयप्रश्न है। प्रत्येक पर 3 अंक आवंटित है।

प्रश्न 7. दिये गये स्तम्भ आरेख को देखकर निम्नांकित प्रश्नों के उत्तर दीजिए –



स्तम्भालेख प्रति व्यक्ति ऊर्जा उपयोग (किलो खनिज तेल में)

स्रोत: "Energy Use Per Capita", World Development Indicators, World Bank

(i) बांग्लादेश में प्रतिव्यक्ति ऊर्जा खपत क्या है?

(ii) सबसे अधिक ऊर्जा की खपत किस देश में है?

(iii) भारत में प्रति व्यक्ति ऊर्जा उपयोग कितना है?

प्रश्न 8. खाद्य सुरक्षा के प्रमुख आयाम (सोपान) क्या-क्या है? लिखिए। (कोई तीन)

प्रश्न 9. शांति आंदोलन के उद्देश्य लिखिए। (कोई तीन)

प्रश्न 10. वृत्ताकार प्रतिरूप का नामांकित चित्र बनाइये।

निर्देश – प्रश्न क्रमांक 11 से 14 तक लघुउत्तरीय प्रश्न है। प्रत्येक पर 4 अंक आवंटित है।

प्रश्न 11. (अ) आपके आस-पास के दो प्राकृतिक संसाधनों के नाम लिखकर प्रत्येक के एक उपयोग बताइए।

2,2 अंक

(ब) अपने गांव में भूमि प्रबंधन के क्या – क्या तरीके अपनाये जा सकते हैं? (कोई दो)

अथवा

(अ) धातु के अलावा और क्या चीजें हैं जिनका पुनर्चक्रण किया जा सकता है? (कोई दो)

(ब) गरीबी दूर करने में भूमि संवर्धन किस हद तक कारगर हो सकता है? (कोई दो)

प्रश्न 12. प्रथम विश्व युद्ध में कौन-कौन सी नई तकनीकें उपयोग में लाई गयीं? किन्हीं चार बिन्दु पर वर्णन कीजिए। 4 अंक

अथवा

औद्योगिकीकरण और विश्वयुद्ध में क्या संबंध था?

प्रश्न 13. उद्योगों की स्थापना को प्रभावित करने वाले किन्हीं चार को कारकों को समझाइए।

4 अंक

अथवा

पिछले पचास वर्षों में उद्योग विकसित देशों से विकासशील देशों में पलायन कर गया। इसके कोई चार कारणों को समझाये।

प्रश्न 14. पंडित जवाहर लाल नेहरू के पंचशील सिद्धांत के किन्हीं चार सिद्धांतों को समझाइये।

4 अंक

अथवा

अगर हिन्दू कोड बिल पारित नहीं होता तो भारत में महिलाओं की स्थितियों पर क्या प्रभाव पड़ता। (कोई चार)

निर्देश – प्रश्न क्रमांक 15 से 16 तक प्रत्येक प्रश्न पर 5 अंक आवंटित हैं।

प्रश्न 15. (अ) भारतीय कृषि मानसून का जुआँ है। क्यों?

2+3 अंक

(ब) रूस में किसानों की दासता कब और किसने समाप्त किया?

अथवा

(अ) औद्योगिक व्यवस्था पर किसानों की निर्भरता बढ़ती के क्या कारण हैं? (कोई दो)

(ब) अमेरिका में आये संकट ने पूरे विश्व को कैसे प्रभावित किया? (कोई तीन प्रभाव)

प्रश्न 16. (अ) स्मार्ट सिटी का क्या अर्थ है ?

1 अंक

(ब) वैश्वीकरण ने पर्यावरण को किस प्रकार प्रभावित किया है। किन्हीं चार बिन्दुओं को समझाइए

4 अंक

अथवा

(अ) पूरा योजना में छत्तीसगढ़ का कौन सा गाँव शामिल है?

(ब) अन्तर्देशीय उत्पादन का बाजार पर क्या प्रभाव पड़ा है। (कोई चार)

निर्देश – प्रश्न क्रमांक 17 से 18 तक प्रत्येक प्रश्न पर 6 अंक आवंटित है।

प्रश्न 17. (अ) संविधान की आवश्यकता क्यों है ?

3+3 अंक

(ब) न्यायपालिका की स्वतन्त्रता को बनाये रखने के लिए संविधान के विभिन्न प्रावधान कौन –कौन से हैं? (कोई तीन)

अथवा

(अ) न्याय पालिका की स्वतंत्रता का क्या अर्थ है?

(ब) छत्तीसगढ़ में 40% महिलाएँ निरक्षर हैं निरक्षरता का उन पर क्या प्रभाव पड़ रहा है? (कोई तीन)

प्रश्न 18. (अ) लोकतन्त्र में जनसहभागिता को समझाइए।

2+4 अंक

(ब) संचार माध्यम ने लोगो को किस प्रकार प्रभावित किया है? मोबाईल का उदाहरण देकर समझाइए।

अथवा

(अ) कोई चार संगठन के नाम बताइये जो जन –प्रतिनिधित्व का कार्य करते हैं।

(ब) किसी घटना के बारे में समाचार जानने के लिए आप किस चैनल को विश्वसनीय मानते हैं कारण सहित उत्तर दीजिए।